

Exercices supplémentaires

CHAPITRE 3 : LES PROPRIÉTÉS CHIMIQUES DES GAZ

3.1 LA RÉACTIVITÉ CHIMIQUE DES GAZ

1. Laquelle des propriétés suivantes représente une propriété chimique d'un gaz ?

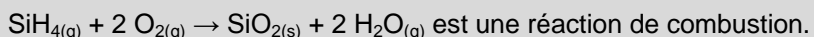
- A. Une bouteille de gaz chauffée a la capacité d'exploser.
- B. Un gaz a une masse volumique de 1,43 g/L.
- C. Le radon a la capacité de s'infiltrer par les fissures des fondations d'une maison.
- D. L'eau de chaux se brouille en présence de dioxyde de carbone.

2. Pourquoi est-il plus avantageux de gonfler les ballons avec de l'hélium qu'avec du dihydrogène ?

3. Laquelle des réactions suivantes est une réaction de combustion ?

- A. $\text{Mg}_{(s)} + 2 \text{HCl}_{(aq)} \rightarrow \text{MgCl}_{2(aq)} + \text{H}_{2(g)}$
- B. $\text{C}_{(s)} + \text{O}_{2(g)} \rightarrow \text{CO}_{2(g)}$
- C. $\text{HCl}_{(aq)} + \text{NaOH}_{(aq)} \rightarrow \text{NaCl}_{(aq)} + \text{H}_2\text{O}_{(l)}$
- D. $\text{NaCl}_{(aq)} + \text{AgNO}_{3(aq)} \rightarrow \text{AgCl}_{(s)} + \text{NaNO}_{3(aq)}$

4. Soit la réaction suivante :



Lequel des énoncés suivants est vrai ?

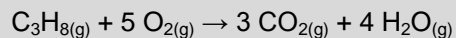
- A. Dans cette réaction, le silane (SiH_4) et le dioxygène sont des combustibles.
- B. Dans cette réaction, le silane (SiH_4) est un combustible, tandis que le dioxygène est un comburant.
- C. Dans cette réaction, le silane (SiH_4) et le dioxygène sont des comburants.
- D. Dans cette réaction, le silane (SiH_4) est un comburant, tandis que le dioxygène est un combustible.

5. Un jour sans vent, un accident a lieu dans une usine de gaz comprimés. Les gaz suivants s'échappent de l'usine : Ne, O_2 , CO, N_2 .

Quel gaz est potentiellement dangereux pour la santé des êtres humains ? Expliquez votre réponse.

3.2 LES CALCULS STœCHIOMÉTRIQUES

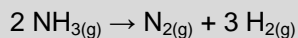
1. Soit la réaction suivante :



Lequel des énoncés suivants est vrai, si la réaction s'effectue à température et pression constante ?

- A. 20 ml de butane (C_3H_8) réagissent avec 100 ml de dioxygène pour produire 60 ml de dioxyde de carbone et 60 ml de vapeur d'eau.
- B. 20 ml de butane (C_3H_8) réagissent avec 120 ml de dioxygène pour produire 60 ml de dioxyde de carbone et 80 ml de vapeur d'eau.
- C. 20 ml de butane (C_3H_8) réagissent avec 20 ml de dioxygène pour produire 20 ml de dioxyde de carbone et 20 ml de vapeur d'eau.
- D. 20 ml de butane (C_3H_8) réagissent avec 100 ml de dioxygène pour produire 60 ml de dioxyde de carbone et 80 ml de vapeur d'eau.

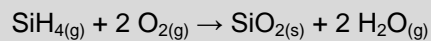
2. Soit la réaction de décomposition de l'ammoniac :



Quel volume de dihydrogène sera produit par la décomposition complète de 135 ml d'ammoniac, à température et pression constante ?

Réponse :

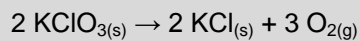
3. Le silane (SiH_4) s'enflamme spontanément au contact de l'air, selon l'équation suivante :



Quel volume de silane est nécessaire pour produire 4,50 g de dioxyde de silicium, à TPN ?

Réponse :

4. Soit la réaction suivante :



Quelle masse de chlorate de potassium (KClO_3) devra être décomposée pour obtenir suffisamment de dioxygène pour remplir un ballon de 15,0 L à TAPN ?

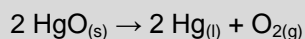
Réponse :

SYNTHÈSE DU CHAPITRE 3

1. Laquelle des propriétés suivantes n'est pas une propriété chimique d'un gaz ?

- A. Le méthane produit une flamme bleue.
- B. Le dihydrogène explose en présence d'une flamme.
- C. L'ozone entretient la combustion.
- D. Une lampe au néon produit de la lumière rouge.

2. Pour produire du dioxygène, il est possible d'utiliser la réaction de décomposition de l'oxyde de mercure, qui s'effectue selon l'équation suivante :



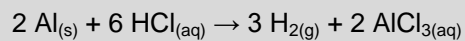
Quel volume de dioxygène peut-on produire par la décomposition complète de 50,0 g d'oxyde de mercure, aux conditions ambiantes de température et de pression ?

Réponse :

3. Pour produire de l'ammoniac (NH_3), on fait réagir complètement 20 L de diazote avec 60 L de dihydrogène. Quel volume d'ammoniac sera formé, à pression et température constantes ?

- A. 80 L
- B. 60 L
- C. 40 L
- D. 20 L

4. Soit la réaction suivante :



Quelle masse d'aluminium est nécessaire pour produire suffisamment de dihydrogène pour remplir un ballon de 10,0 L à une température de 0 °C et une pression de 760 mm Hg ?

Réponse :

5. Indiquez à quelle catégorie appartient chacun des gaz suivants.

Gaz	Gaz peu réactif	Gaz comburant	Gaz combustible
Argon			
Diazote			
Dichlore			
Difluor			
Dihydrogène			
Dioxygène			
Hélium			
Néon			
Ozone			
Propane			

DÉFIS DU CHAPITRE 3

1. Un barbecue utilisé pour la cuisson extérieure est alimenté par du gaz propane (C_3H_8) contenu dans une bonbonne d'acier de 5,0 L.
 - a) Si la bonbonne contient 800,0 g de propane à une pression de 300,0 kPa et à une température de 27,0 °C, quel volume de dioxygène sera nécessaire, aux conditions ambiantes, pour brûler tout le gaz disponible dans la bonbonne ?

Réponse :

- b) Il est possible de modifier un barbecue pour qu'il fonctionne au gaz naturel plutôt qu'au propane. Des réglages préalables sont cependant nécessaires. Si le gaz naturel est principalement constitué de méthane (CH_4), quelle modification doit-on apporter au barbecue pour le convertir au gaz naturel ? Expliquez votre réponse.

Piste de solution : comparez les équations de combustions de chacun des gaz.

2. Le gaz contenu dans un briquet est un composé formé uniquement de carbone et d'hydrogène. Afin d'identifier ce gaz, vous en faites brûler 150 ml aux conditions ambiantes. Si vous recueillez 600 ml de dioxyde de carbone et 750 ml de vapeur d'eau, quelle est la formule chimique la plus probable de ce gaz ?

Réponse :